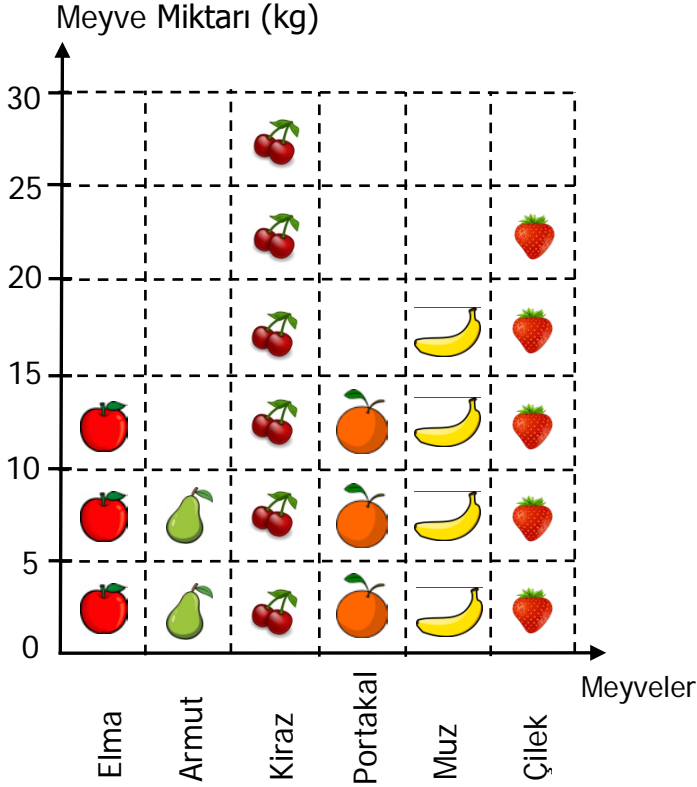


Nesne ve Şekil Grafiği

Aşağıda bir manavda bir günde satılan meyve miktarı verilmiştir. Buna göre aşağıdaki 9 soruyu bu tabloya göre cevaplayınız.

Grafik: En Çok Sevilen Meyveler



(Her nesne, 5 meyveyi göstermektedir.)

1) En az satılan meyve kaç kilogramdır?

- A) 10 kg B) 15 kg C) 20 kg

2) En çok satılan meyve kaç kilogramdır?

- A) 25 kg B) 30 kg C) 35 kg

3) Elma ile muzun toplamı kaç kilogramdır?

- A) 35 kg B) 40 kg C) 45 kg

4) Hangi meyveler eşit miktarda satılmıştır?

- A) Elma ve Armut
B) Portakal ve Çilek
C) Elma ve Portakal

5) En az satılan meyve ile en çok çok satılan meyve arasında kaç kg fark vardır?

- A) 20 kg B) 25 kg C) 30 kg

6) Çilek ve muzların toplamı kirazlardan kaç kg fazladır?

- A) 5 kg B) 10 kg C) 15 kg

7) En az satılan meyve ile en çok çok satılan meyvelerin toplamı kaç kilogramdır?

- A) 30 kg B) 35 kg C) 40 kg

8) Elma ve armutların toplamı hangi meyvenin miktarına eşittir?







- A) Kiraz B) Çilek C) Muz

9) Manavda bir günde kaç kilogram meyve satılmıştır?

- A) 110 kg B) 115 kg C) 120 kg

Aşağıda bir mağazada bir ayda satılan kıyafetlerin şekil grafiği verilmiştir. Buna göre aşağıdaki 9 soruyu bu tabloya göre cevaplayınız.

Grafik: Kütüphanedeki Kitap Türleri

| Kıyafetler | Kıyafet Sayısı |
|------------|--|
| Gömlek |  |
| Ceket |  |
| Mont |  |
| Pantolon |  |
| Etek |  |
| Elbise |  |
| Tişört |  |

(Her şekil, 10 kıyafeti göstermektedir.)

10) Mağazada en çok hangi kıyafet satılmıştır?

- A) Gömlek
- B) Pantolon
- C) Etek

11) Mağazada en az satılan kıyafet sayısı kaçtır?

- A) 10
- B) 20
- C) 30

12) Mağazada en fazla satılan kıyafet ile en az satılan kıyafetlerin toplamı kaçtır?

- A) 90
- B) 80
- C) 70

13) Mağazada hangi kıyafetler eşit sayıda satılmıştır?

- A) Ceket ve tişört
- B) Pantolon ve gömlek
- C) Gömlek ve etek

14) Mağazada bir ayda toplam kaç adet gömlek ve ceket satılmıştır?

- A) 90
- B) 80
- C) 70

15) Mağazada en fazla satılan kıyafet ile en az satılan kıyafet arasındaki fark kaçtır?

- A) 40
- B) 50
- C) 60

16) Bir ayda satılan ceket ve elbise sayısı hangi kıyafet sayısına eşittir?

- A) etek
- B) gömlek
- C) pantolon

17) Mağazada bir ayda satılan mont ve ceket miktarı, elbise miktarından kaç fazladır?

- A) 20
- B) 30
- C) 40

18) Mağazada bir ayda kaç adet kıyafet satılmıştır?

- A) 260
- B) 250
- C) 240